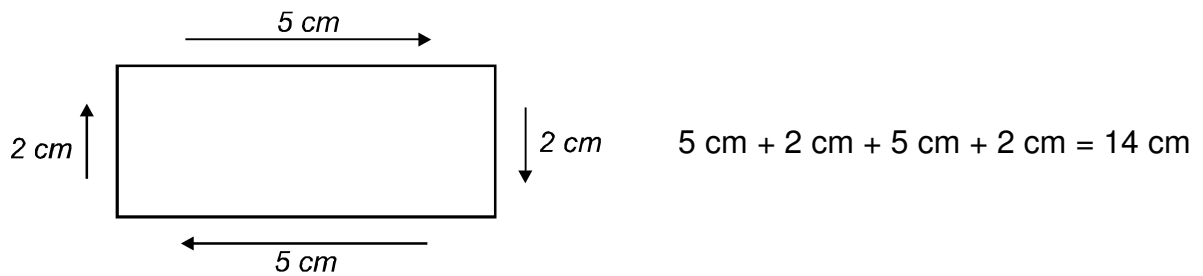


Umfang von Rechtecken und Quadraten 1

Merke:

Zur Berechnung des Umfangs rechnet man alle Seitenlängen zusammen.




Miss die Längen der Seiten und berechne den Umfang.


Tipp: Denke daran, dass beim Rechteck gegenüberliegende Seiten gleich lang sind, beim Quadrat alle Seiten gleich lang sind.




___ cm + ___ cm + ___ cm + ___ cm = ___ cm



___ cm + ___ cm + ___ cm + ___ cm = ___ cm




___ cm + ___ cm + ___ cm + ___ cm = ___ cm



___ cm + ___ cm + ___ cm + ___ cm = ___ cm



___ cm + ___ cm + ___ cm + ___ cm = ___ cm



___ cm + ___ cm + ___ cm + ___ cm = ___ cm