




Benenne die dargestellte Uhrzeit in zweifacher Weise!




Es ist _____ Uhr oder _____ Uhr.



Es ist _____ Uhr oder _____ Uhr.



Es ist _____ Uhr oder _____ Uhr.



Es ist _____ Uhr oder _____ Uhr.

