


Übung 1

Name: _____

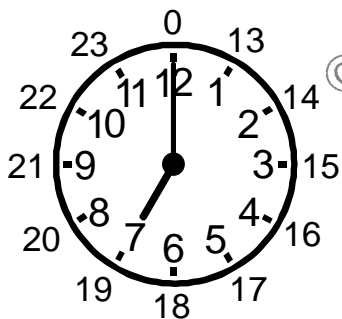
Ordne immer zwei Uhrzeiten zu!

Beispiel:


13 Uhr
14 Uhr
15
16
1 Uhr
2 Uhr



3 Uhr
16 Uhr
15 Uhr
4 Uhr



7 Uhr
18 Uhr
8 Uhr
19 Uhr



11 Uhr
22 Uhr
23 Uhr
12 Uhr