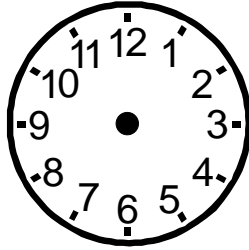


Übung 38


Name: _____

Zeichne den Stundenzeiger (kleiner Zeiger) in rot und den Minutenzeiger (großer Zeiger) in blau ein.

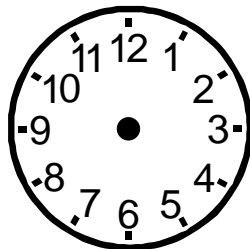
12 Uhr und
50 Minuten




7 Uhr und
5 Minuten



6 Uhr und
30 Minuten



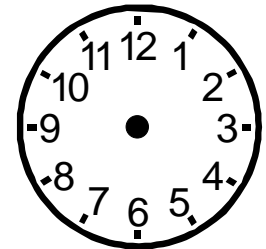
2 Uhr und
10 Minuten




9 Uhr und
20 Minuten



5 Uhr und
40 Minuten



12 Uhr und
15 Minuten



4 Uhr und
55 Minuten

