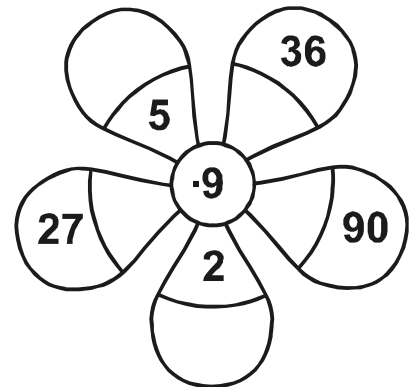
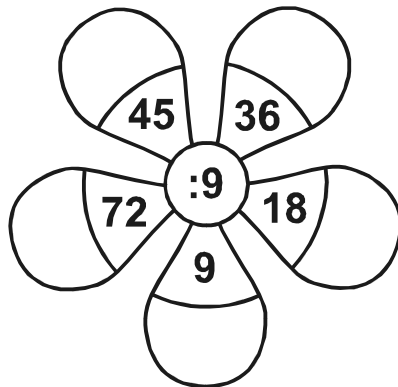



Das Einmaleins mit der 9 – 4. Übung

Blumen ausrechnen!

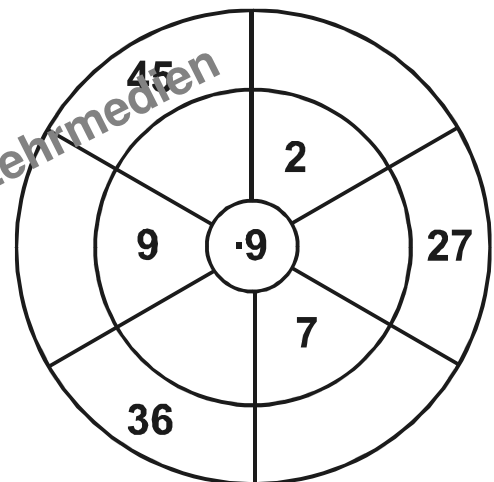


Verbinde die Aufgabe mit dem richtigen Ergebnis!

1 • 9
2 • 9
3 • 9
4 • 9
5 • 9
6 • 9
7 • 9
8 • 9
9 • 9
10 • 9

27
81
90
9
18
36
45
63
54
72

© REPO - Lern- und Lehrmedien



Schreibe die Umkehraufgabe und rechne aus!

Aufgabe	
---------	--

- 7 • 9 = \_\_\_\_\_
- 4 • 9 = \_\_\_\_\_
- 8 • 9 = \_\_\_\_\_
- 1 • 9 = \_\_\_\_\_
- 6 • 9 = \_\_\_\_\_
- 3 • 9 = \_\_\_\_\_

Umkehraufgabe	
---------------	--

- 63 : 9 = 7
- \_\_\_\_\_ : \_\_\_\_\_ = \_\_\_\_\_
- \_\_\_\_\_ : \_\_\_\_\_ = \_\_\_\_\_
- \_\_\_\_\_ : \_\_\_\_\_ = \_\_\_\_\_
- \_\_\_\_\_ : \_\_\_\_\_ = \_\_\_\_\_
- \_\_\_\_\_ : \_\_\_\_\_ = \_\_\_\_\_