

Übung 15

Name: _____

Wie viele Euro sind dargestellt?












 =




 =



 =








 =




 =

